

雅思写作真题 (第 11 册)

适用 **2014 年 5-12 月** 题库

Attention Please!

预测会随着每场雅思考试的考题题库或因命中考题而变动

用本书备考的学员请务必用手机关注新浪微博

Ⓐ 我预测写作

或点击查看 <http://weibo.com/ipredicting1>;

预测重点删除查看: 注册 ks.ipredicting.com

我们和你们一样 “只求版本最少且预测最准!”

TASK1 图表写作部分 (第 2 本)

预测论坛 www.ipredicting.com 支持, 讨论和考题指导

本书更新印刷日期 **2014 年 4 月 5 日** 第 1 次印刷

雅思写作真题 **Version** 必看补丁

writing

主题提示:

重要风险提示:

为了打击盗版复印, *ipredicting* 团队老师保留了(相当数量)必考机经没有收录在印刷的书籍中, 您必须登录在线电子预测系统~必看补丁目录(才能在考试前看到这些版本!)

盗版复印用户请马上放弃手上的机经, 提高实力!

机经可能是白白浪费时间准备了,
辛苦看的不会考, 考了的你一直没有权限看!

本书籍配有必备的 在线电子范围预测系统,
请确认您使用

ipredicting 正版店铺购买书籍



手机扫描二维码:
跳转 正版店铺

配有激活的系统账户。

使用手机或者(电脑)注册 在线范围预测系统, 网址

ks.ipredicting.com

您注册的手机号码是您使用该系统最重要的身份识别!

指点官方淘宝店铺 **ielts9.taobao.com**

请咨询淘宝店客服, 向其购买(或者索取)系统的升级激活码: 输入在线系统左侧的“权限升级”栏目, 即可使用;



请手机扫描二维码,
跳转预测电子系统

List of Content 目录

篇目	版本号	主题	页码
第 1 篇	V11121	动态, 柱图	01
第 2 篇	V11125	静态, 柱图	05
第 3 篇	V11102	动态, 线图	09
第 4 篇	V11221	动态, 饼图	13
第 5 篇	V11141	混合图	17
第 6 篇	V11212	动态, 饼图	21
第 7 篇	V11104	静态, 饼图	25
第 8 篇	V11109	动态, 柱图	29
第 9 篇	V11113	动态, 柱图	33
第 10 篇	V11161	流程图	37
第 11 篇	V11106	动态, 线图	41
第 12 篇	V11162	流程图	45
第 13 篇	V11152	动态, 地图	49
第 14 篇	V11145	静态, 饼图	53
第 15 篇	V13142	动态, 表格	57
第 16 篇	V13222	动态, 柱图	61
第 17 篇	V13103	静态, 饼图	65
第 18 篇	V13112	动态, 柱图	69
第 19 篇	V13151	地图	73
第 20 篇	V13302	静态, 柱图	77

YY8638 【雅思写作预测班】



选择“我预测，你高分”写作预测课程的三个理由：

1. 我预测，你高分是唯一掌握雅思写作Task 1题库的预测团队，独家提供雅思写作Task 1预测课程，小作文原题命中只有我们能做到。

独家收录题库超高难度题目	小作文原题命中只有我们能做到
<p>Task 1 难度越来越大，2012年12月8日考试，23根柱子，横轴为项目，图例为时间，与V11111写法一模一样。这种题目不提前复习，考场上要遭罪。</p>	<p>《雅思写作真题1》V11102 原题命中2013年1月10日雅思写作Task 1，提供范文！</p>

2. 我预测，你高分是唯一提供写作预测书籍的团队，书籍随题库变化更新，并与在线课程相结合。

书籍与在线课程相结合	掌握雅思考试主题及图形所有变化
<p>2013年2月14日，动态地图题，1月31日开地图课程，书籍动态地图V11151为当次考试重点题型，双保险。</p>	<p>写作真题3V12101命中同主题2013年1月12日 birth rate 题目，提供准确固定搭配，范文！</p>

3. 我预测，你高分是唯一提供雅思写作在线系统的团队，结合在线系统 ks.ipredicting.com 提供真题 写作原题+完美答案，实时监控写作删除，重点，缩小精准原题范围，随时随地复习纠错，达到事半功倍的效果。

Sample answer for

Version 11121

参考范文

The chart shows the number of female students per 100 male students in primary, secondary and tertiary education.

图表说明了，在初等、中等、高等教育中，每100名男性学生所对应的女生数量。

I 我预测你高分 predicting On Average, more boys than girls **were enrolled** in school both in 1990 and 1998 in all the countries, except in tertiary education in developed countries. The number of girls per 100 boys **was larger** in 1998 than in 1990 in the two country groups and in all the **educational stages**. (ipredicting©)

所有国家从1990年到1998年，男生数量均要多于女生数量，尤其是发达国家的高等院校。两组参比国家在所有教育等级上，1998年，每100名男生对应的女生数量要高于1990年女生的数量。

Turning to the detail, there were more boys than girls in primary and secondary education. As can be seen, developing countries **saw a bigger discrepancy** between the numbers of male and female students than developed countries, with the number of girls per 100 boys at 83 in 1990 and 87 in 1998 in primary education.

I 我预测你高分 predicting 转向细节方面，中等学校和高等学校男生数量要多于女生数量。可以看出，相比于发达国家，发展中国家男女比例存在明显差别，1990年每100名男生对应83名女生，而在1998年对应女生的人数为87人。

However, in developed countries, **the balance** of the two was much closer to the ideal, particularly in secondary education, with 98 girls per 100 boys in 1990 and 99 in 1998.

然而，在发达国家，男女比例近乎理想平衡，特别是在中等教育学校，1990年，每100名男生对应98名女生，在1998年100名男生对应99名女生。


Regarding tertiary education, the balance was even **worse** than in any other levels of education in developing countries with 66 girls enrolled for every 100 boys in 1990 and 75 in 1998. On the other hand, in developed countries, the number of girls **overtook** that of boys at 105 per 100 boys in 1990 and 112 in 1998.

I 我预测你高分 predicting 至于发展中国家的高等教育，男女学生比例出现了失衡，1990年每100名男生对应入学的女生人数为66人，1998年为75人。另一方面，在发达国家，女生人数已赶超男生，1990年每100名男生对应女生人数为105人，1998年对应女生人数为112人。

tertiary (adj.) 第三的

拼写练习: _____

机经中搭配: *tertiary education*
高等教育



discrepancy (n.) 差别

拼写练习: _____

机经中搭配: *a bigger discrepancy*
有明显差别



overtook (v.) 超过

拼写练习: _____

机经中搭配: *the number overtook*
数量超过



secondary (adj.) 中等的

拼写练习: _____

机经中搭配: *secondary education*
中等教育



enrolled (v.) 登记, 入学

拼写练习: _____

机经中搭配: *enrolled for*
注册参加



primary (adj.) 初等的

拼写练习: _____

机经中搭配: *primary education*
初等教育



On Average

平均

拼写练习: _____

机经中搭配: _____



be enrolled in

入学, 入伍

拼写练习: _____

机经中搭配: _____

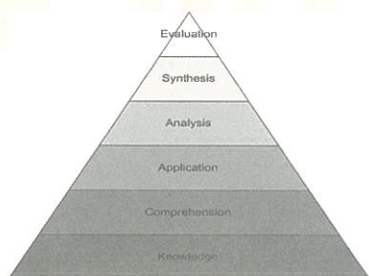


educational stages

教育阶段

拼写练习: _____

机经中搭配: _____

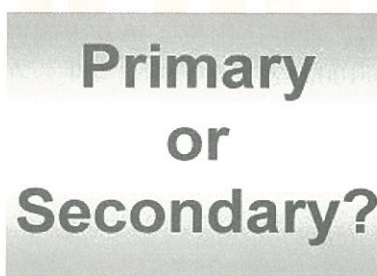


primary and secondary

主要和次要

拼写练习: _____

机经中搭配: _____



primary education

初等教育

拼写练习: _____

机经中搭配: _____




levels of education

教育水平

拼写练习: _____

机经中搭配: _____



EX. V11121 Translate the following sentences

1. 所有国家从1990年到1998年，男生数量均要多于女生数量，尤其是发达国家的高等院校。

.....

.....

.....

.....

2. 转向细节方面，中等学校和高等学校男生数量要多于女生数量。

.....

.....

.....

.....

3. 然而，在发达国家，男女比例近乎理想平衡，特别是在中等教育学校，1990年，每100名男生对应98名女生，在1998年100名男生对应99名女生。

.....

.....

.....

.....

4. 至于发展中国家的高等教育，男女学生比例出现了失衡，1990年每100名男生对应入学的女生人数为66人，1998年为75人。

.....

.....

.....

.....

Sample answer for

Version 11125

范文

The chart shows **striking differences** in the level of computer and **Internet penetration** in the Arab world.

这张图表显示了阿拉伯世界中，计算机水平与互联网普及率存在的显著差异。

One feature of the chart is that Internet use does not seem to be **directly related to** the number of computers. In several countries (the UAE, Lebanon, Jordan and Oman), there are more Internet users **per thousand** people than computers. However, in other countries, such as Kuwait, Saudi Arabia and Syria, the number of Internet users is lower than the number of computers. Another **striking feature** is that the UAE clearly leads the area in both number of computers and number of **Internet users** per capita. (ipredicting©)

图表的一大特点是，互联网的使用并不是和计算机数量直接相关。在一些国家（阿联酋，黎巴嫩，约旦，阿曼苏丹国），每一千居民中会有更多人使用互联网。然而，在其他国家，例如科威特，沙特阿拉伯及叙利亚，互联网的使用量低于计算机的使用量。另一个显著特征是，阿联酋在互联网与计算机使用量上均领先于平均水平。

The UAE and Kuwait are by far the most computerized countries, with Lebanon a distant third. The UAE has over 150 computers for every 1000 inhabitants, **compared to** Kuwait's 130 and Lebanon's 60. In contrast, countries such as Egypt, Morocco and Syria have less than 20 computers per 1000 **inhabitants**.

迄今为止，阿联酋和科威特是计算机最普及化国家，遥遥领先于第三位的黎巴嫩。在阿联酋，平均每1000居民就有超过150台计算机，多于科威特每千人130及黎巴嫩的每千人60台的量。相反，像埃及国家，摩洛哥和叙利亚国家，每千人拥有计算机均少于20台。

There are also great differences in Internet **use and availability**. The UAE has by far the **highest proportion of** users, with more than one-third of its population using the Internet. Kuwait and Lebanon are second and third again, with 100 users per thousand in Kuwait and 80 in Lebanon. In some countries, the number using the Internet is **negligible**: Saudi Arabia has less than 20 users per thousand, and there are fewer than 5 users per thousand in Syria.

在互联网的使用及可用性上也存在明显差异。目前为止，阿联酋在使用上占有最高比例，超过 1/3 的人使用互联网，科威特和黎巴嫩再次位居二、三位，使用量分别为 100 人/千人，80 人/千人。在某些国家，因特网的使用量是可用忽略不计的，阿拉伯使用人数少于 20，叙利亚使用人数少于 5 人。

feature (n.) 特征

拼写练习: _____

机经中搭配: *striking feature*
显著特征



inhabitants (n.) 居民

拼写练习: _____

机经中搭配: *every 1000 inhabitants*
每一千个居民



availability (n.) 可用性

拼写练习: _____


机经中搭配: *use and availability*
使用及实用性



negligible (adj.) 微不足道

拼写练习: _____

机经中搭配: *the number is negligible*
数量是微不足道的



contrast (n.) 对比

拼写练习: _____

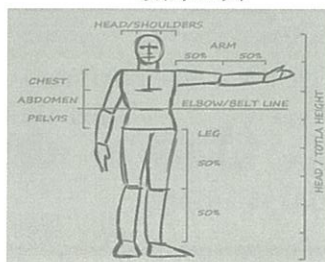
机经中搭配: *in contrast*
与此相反



proportion (n.) 比例

拼写练习: _____

机经中搭配: *highest proportion of*
最高比例



striking differences

显著差异

拼写练习: _____

机经中搭配:

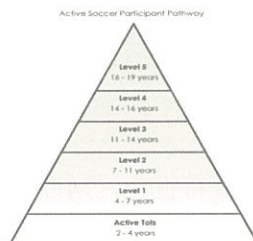


in the level of

在...水平

拼写练习: _____

机经中搭配:



Internet penetration

互联网普及率

拼写练习: _____

机经中搭配:



directly related to

直接相关

拼写练习: _____

机经中搭配:



Internet users 网民

拼写练习: _____


机经中搭配:



per capita 人均

拼写练习: _____

机经中搭配:



EX. V11125 Translate the following sentences

1. 然而，在其他国家，例如科威特，沙特阿拉伯及叙利亚，互联网的使用量低于计算机的使用量。

.....

.....

.....

.....

2. 另一个显著特征是，阿联酋在互联网与计算机使用量上均领先于平均水平。

.....

.....

.....

.....

3. 在阿联酋，平均每1000居民就有超过150台计算机，多于科威特每千人130及黎巴嫩的每千人60台的量。

.....

.....

.....

.....

4. 目前为止，阿联酋在使用上占有最高比例，超过1/3的人使用互联网，科威特和黎巴嫩再次位居二、三位，使用量分别为100人/千人，80人/千人。

.....

.....

.....

.....

Sample answer for

Version 11102

参考范文

The three graphs show a **quite different pattern** in wheat exports between 1985 and 1990. Exports from Australia declined **over the five-year period**, while the Canadian market **fluctuated considerably**. The European Community showed an increase.

线图显示了1985年至1990年间,出口小麦三个完全不同的模式。澳大利亚出口下降的趋势超过了5年期,而加拿大市场存在显著波动,欧洲共同市场表现出增长趋势。

我预测你高分
ipredicting

In 1985, Australia exported about 15 millions of tonnes of wheat and during **the following year**, the number increased by one million tonnes to 16 million. After that, however, there was a **gradual decline** until 1989 and 1990 when it **stabilised at** about 11 million tonnes. (ipredicting©)

1985年,澳大利亚出口小麦的量是1500万吨,随后一年出口量增加了100万达到了1600万吨。然而此后至1989年,出口量逐渐下降,到1990年出口量才稳定在1100万吨。

我预测你高分
ipredicting

Over the same period, the amount of Canadian exports varied greatly. It started at 19 million tonnes in 1985 and **reached a peak** in 1988 of 24 million. The figure dropped dramatically in 1989 to 14 million tonnes before **climbing back to** 19 million in 1990.

在同样时期,加拿大出口量变化很大。1985年出口量在1900万吨,在1988年达到顶峰2400万吨,1989年出口量大幅下降到1400万吨,又在1990年上升到1900万吨。

我预测你高分
ipredicting

Seventeen million tonnes were exported from the European Community in 1985, but this decreased to 14 million tonnes in 1986. The figure then rose to 15 million in 1987 and 1988 before **increasing** to 20 million in 1990.

1985年欧洲共同市场出口量是1700万吨,但在1986年下降至1400万吨,又在1987及1988年上升到1500万吨,1990年出口量有了又一次大幅增长达到2000万吨。

pattern (n.) 模式

拼写练习: _____

机经中搭配: *different pattern*
不同模式



fluctuate (v.) 波动

拼写练习: _____

机经中搭配: *fluctuated considerably*
波动显著



peak (n.) 顶峰

拼写练习: _____

机经中搭配: *reached a peak*
达到顶峰



dramatically (adv.) 戏剧的

拼写练习: _____

机经中搭配: *dropped dramatically*
急速下降



stabilised (vt.) 使...稳定

拼写练习: _____


机经中搭配: *stabilised at about...*
稳定在...



following (adj.) 接着的

拼写练习: _____

机经中搭配: *the following year*
接下一年



European Community

欧洲共同市场

拼写练习: _____

机经中搭配:



climbed back to

回到

拼写练习: _____

机经中搭配:



once more 再一次

拼写练习: _____

机经中搭配:



gradual decline

逐渐下降

拼写练习: _____

机经中搭配:



rise to

上升到

拼写练习: _____

机经中搭配:



varied greatly 变化显著

拼写练习: _____

机经中搭配:



EX. V11102 Translate the following sentences

1. 澳大利亚出口下降的趋势超过了5年期，而加拿大市场存在显著波动，欧洲共同市场表现出增长趋势。

.....

.....

.....

.....

2. 然而此后至1989年，出口量逐渐下降，到1990年出口量才稳定在1100万吨。

.....

.....

.....

.....

3. 在同样时期，加拿大出口量变化很大。1985年出口量在1900万吨，在1988年达到顶峰2400万吨，1989年出口量大幅下降到1400万吨，又在1990年上升到1900万吨。

.....

.....

.....

.....

4. 1985年欧洲共同市场出口量是1700万吨，但在1986年下降至1400万吨，又在1987及1988年上升到1500万吨，1990年出口量有了又一次大幅增长达到2000万吨。

.....

.....

.....

.....

Sample answer for

Version 11121

参考范文

The pie charts illustrate the different proportion of energy used in the USA from 1980 to 1990.

这两个饼图展示了美国从1980年到1990年使用能源的比例。

Overall, oil was the major **energy source** in the USA in both 1980 and 1990 and that coal, natural gas and **hydroelectric power** remained **in much the same** proportions. On the other hand, there was a dramatic rise in nuclear power, which doubled its percentage **over** the ten years.

总体来看，美国主要消耗的能源是石油，而且煤，天然气以及水电几乎停留在相同比例。另一方面，核能的使用出现了剧烈增长，所占百分比是前十年的两倍。

Turning to the detail, oil supplied the largest percentage of energy, although the percentage **decreased from** 42% in 1980 to 33% in 1990. Coal in 1990 was the second largest source of energy, increasing its proportion to 27% from 22% **in the previous decade**. Natural gas, the second largest source in 1980 at 26%, decreased its share very **slightly**, providing 25% of America's energy ten years later. There was no change in the percentage **supplied by** hydroelectric power which remained at 5% of the total energy used. **Nuclear power** had the greatest change: in 1990 it was 10%, twice that of the 1980s. (ipredicting©)


我预测你高分
ipredicting

油类占能源供给很大百分比，尽管其比例从1980年的42%下降到1990年的33%。1990年煤成为第二大供给能源，比例从十年前的22%增加到27%。天然气以26%的份额在1980年成为第二大能源，10年后其百分比微弱下降，占美国能源供给的以25%。水电供给的百分比没有变化，仍以占能源供消耗量的5%。核能的份额有了较大改变：1990年占消耗量的10%，是1980年消耗量的两倍。

doubled (v.) 使加倍

拼写练习: _____

机经中搭配: *doubled its percentage*
使它的百分比加倍



decreased (v.) 减少

拼写练习: _____

机经中搭配: *decreased from*
从...减少



previous (adj.) 先前的

拼写练习: _____


机经中搭配: *in the previous decade*
前十年



hydroelectric (adj.) 水利发电

拼写练习: _____

机经中搭配: *hydroelectric power*
水力发电



proportion (n.) 比例

拼写练习: _____


机经中搭配: *in the same proportions*
相同比例



supplied (v.) 供应

拼写练习: _____

机经中搭配: *oil supplied*
油类供给

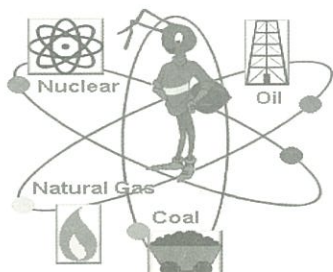


energy source

能源

拼写练习: _____

机经中搭配:




total energy used

总能源消耗量

拼写练习: _____

机经中搭配:



remained in

停留在

拼写练习: _____

机经中搭配:




much the same

几乎相同

拼写练习: _____

机经中搭配:



dramatic rise

剧烈增长

拼写练习: _____

机经中搭配:




nuclear power

核能

拼写练习: _____

机经中搭配:



EX. V11121 Translate the following sentences

1. 两个图形显示了1980-1990年间，美国主要消耗的能源是石油，而且煤，天然气以及水电几乎停留在相同比例。

.....

.....

.....

.....

2. 另一方面，核能的使用出现了剧烈增长，所占百分比是前十年的两倍。

.....

.....

.....

.....

3. 天然气以26%的份额在1980年成为第二大能源，10年后其百分比微弱下降，占美国能源供给的以25%。

.....

.....

.....

.....

4. 水电供给的百分比没有变化，仍以占能源供消耗量的5%。核能的份额有了较大改变：1990年占消耗量的10%，是1980年消耗量的两倍。

.....

.....

.....

.....

Sample answer for

Version 11141

参考范文

The table shows the reason why people in Edmonton use their cars in the city and the pie chart explains what **type of** transport people prefer to use most of the time.

表格显示埃德蒙顿居民在城市使用汽车的原因，饼形图说明了大多数时间，人们选择什么样的交通方式出行。

我预测你高分
ipredicting Looking at the pie chart first, it is clear that the car is the most popular **means of transport** in this city. 45% of the people say that they prefer to **commute** by car. The second most popular form of transport is the LRT, while busses and taxis are the main means of transport **for the rest of** the people. (ipredicting©)

首先看饼形图，清楚的说明了汽车是最受欢迎的交通方式。45%的人们会选择以车代步。其次受欢迎的交通方式是轻轨列车，而对于剩下的民众来说，公交车和出租车是最主要的交通方式。

The table gives more **detailed information** about why people use their cars. **我预测你高分**
ipredicting Surprisingly, 55% of the people need to commute to work by car. Cars are also used a lot for taking children to school or **business purposes**. Only 15% of drivers are doing their shopping, and 15% need to travel by car **for** **leisure**.

表格给出了更多关于人们为什么使用汽车的原因。出人意料的是，55%的人需要坐车上下班。汽车也经常用于接送孩子上学，或者一些商业目的。只有15%的司机用于方便购物，同样的，15%的人用于日常休闲旅行。


我预测你高分
ipredicting Overall, people in Edmonton make good use of **alternative methods** of transport but there is a **heavy** **dependence on** cars for work.

总体来说，埃德蒙顿的居民充分利用了不同交通替代，但是在工作上对汽车会有强烈的依赖。

transport (n.) 运输

拼写练习: _____

机经中搭配: *means of transport*
运输工具



commute (n.) 通勤

拼写练习: _____

机经中搭配: *commute by car*
以车代步



leisure (n.) 空闲

拼写练习: _____

机经中搭配: *travel for leisure*
休闲旅行



Surprisingly (adv.) 出人意料

拼写练习: _____


机经中搭配: *Surprisingly*
出人意料的



similarly (adv.) 同样的

拼写练习: _____


机经中搭配: *similarly*
同样的



means (n.) 方式

拼写练习: _____

机经中搭配: *means of transport*
运输方式




alternative methods

替代方法

拼写练习: _____

机经中搭配: _____

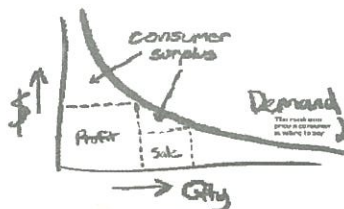


the rest of

余下的

拼写练习: _____

机经中搭配: _____

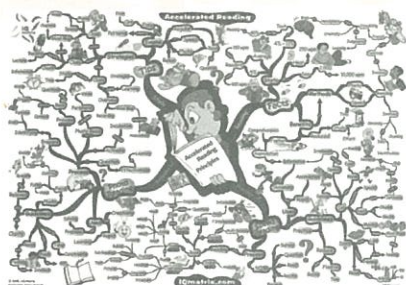


detailed information

详细信息

拼写练习: _____

机经中搭配: _____



business purposes

商业目的

拼写练习: _____

机经中搭配: _____



prefer to 更喜欢

拼写练习: _____

机经中搭配: _____



dependence on 依赖

拼写练习: _____

机经中搭配: _____



EX. V11141 Translate the following sentences

1. 表格显示埃德蒙顿居民在城市使用汽车的原因，饼形图说明了大多数时间，人们选择什么样的交通方式出行。

.....

.....

.....

.....

2. 45%的人们会选择以车代步。其次受欢迎的交通方式是轻轨列车，而对于剩下的民众来说，公交车和出租车是最主要的交通方式。

.....

.....

.....

.....

3. 出人意料的是，55%的人需要坐车上下班。汽车也经常用于接送孩子上学，或者一些商业目的。

.....

.....

.....

.....

4. 总体来说，埃德蒙顿的居民充分利用了不同交通替代，但是在工作对汽车会有强烈的依赖。

.....

.....

.....

.....

Sample answer for

Version 11212

参考范文

The pie charts illustrate changes in the population of different areas of the world between 1900 and 2000. The major regions are represented as percentages of the **total world population**.

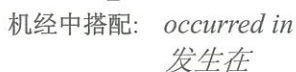
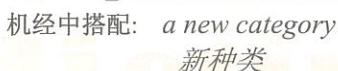
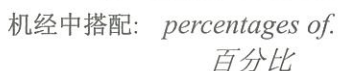
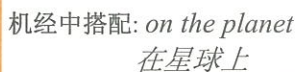
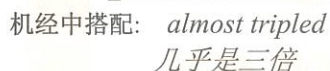
圆形图表显示了世界上不同区域的人口数量在1900年到2000之间的变化。主要区域的人数被表示成占世界人口总数的百分比。

From 1900 to 2000, the percentage of people living in Africa more than doubled from 4.5% to 10%, while Latin America's proportion almost **tripled** in the same period. On the other hand, the percentage of population in Europe and Asia decreased over the last century. Europe's percentage **dropped from** 25% to 14%, while Asia **declined from** 60% to 54%. North America's percentage, however, **remained constant at** 5% in 1900 and 2000. The Middle East and North Africa, a new category in 2000, represented 6% of world population. (ipredicting©)

从1900年到2000年，生活在非洲国家的人口数量增加了两倍，从4.5%增加到了10%，而拉丁美洲的人口比例几乎是同时期的三倍。另一方面，欧洲及亚洲的人口百分比在过去一个世纪逐渐下降。欧洲人口数量百分比从25%降到14%，而亚洲人口数量从60%降到54%。然而从1900年到2000年，北美洲人口百分比保持在5%不变。一种新的人口范畴出现在2000年，中东及北非占世界人口的6%。

Overall, this represents a huge increase in the number of humans **on the planet**, from 1.6 billion to 6 billion in just one century. Most of this population growth has **occurred in** developing countries.

总的来说，这标志着地球人口数量出现大幅增长，一个世纪内从16亿增长到60亿，人口增长大多出现在发展中国家。



over the last century

过去一个世纪

拼写练习: _____

机经中搭配:




dropped from

从...下落

拼写练习: _____

机经中搭配:



declined from

下降

拼写练习: _____

机经中搭配:

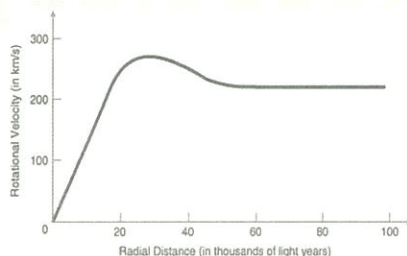


remained constant

保持不变

拼写练习: _____

机经中搭配:



a huge increase

巨大增长

拼写练习: _____

机经中搭配:



population growth

人口增长

拼写练习: _____

机经中搭配:



EX. V11212 Translate the following sentences

1. 圆形图表显示了世界上不同区域的人口数量在1900年到2000之间的变化。主要区域的人数被表示成占世界人口总数的百分比。

.....

.....

.....

.....

2. 生活在非洲国家的人口数量增加了两倍，从4.5%增加到了10%，而拉丁美洲的人口比例几乎是同时期的三倍。

.....

.....

.....

.....

3. 然而从1900年到2000年，北美洲人口百分比保持在5%不变。一种新的人口范畴出现在2000年，中东及北非占世界人口的6%。

.....

.....

.....

.....

4. 总的来说，这标志着地球人口数量出现大幅增长，一个世纪内从16亿增长到60亿，人口增长大多出现在发展中国家。

.....

.....

.....

.....

Sample answer for

Version 11104

参考范文

The pie charts give information about the world spending on different items, world population and the **consumption of resources**.

圆形图给出了世界不同项目上的花费信息,人口及能源的消费。

我预测你高分
ipredicting

In the first chart, we can see that people spend most of their income (24%) on food. Transport and then **housing** are the next major expenses at 18% and 12% respectively. Only 6% of income is spent on clothing.

(ipredicting©)

第一张图表,我们可以知道人们将收入的大部分(24%)花费在食物上。运输及住房位居第二,分别占到收入的18%及12%。只有6%的收入花费在服装上。

In the second chart **entitled** 'World Population', it is not surprising to find that 57% of people live in Asia. Europeans and the Americans account for nearly 30% of the total, while 10% of people live in Africa.

我预测你高分
ipredicting

第二张图被命名“世界人口”,不难发现世界上57%的人分布在亚洲。事实上,中国和印度是世界上两大人口的居住区。欧洲及美国人口占近总数的30%,而非洲国家人口只占了10%。

The third chart shows that the USA and Europe **consume a huge** 60% of the world's resource.

第三张图说明了美国和欧洲消耗了世界上60%的资源。

To sum up, **the major expenditure** is on food, while **the population figures** are the highest for Asia. The major consumers are Americans and Europeans.

我预测你高分
ipredicting

总的来说,主要的花费在食物上,而亚洲的人口总数是最高的。能源消耗最多的是美国人及欧洲人。

items (n.) 项目

拼写练习: _____

机经中搭配: *different items*
不同项目

item
deutschland

housing (n.) 住房

拼写练习: _____

机经中搭配: *Transport then housing*
运输及住房



entitled (v.) 给...命名

拼写练习: _____

机经中搭配: *the chart entitled*
图表被命名为



expenditure (n.) 花费

拼写练习: _____


机经中搭配: *the major expenditure*
最主要的花费



figures (n.) 数据

拼写练习: _____

机经中搭配: *the population figures*
人口数据



consume (vt.) 消耗

拼写练习: _____

机经中搭配: *consume a huge*
大量消耗



live in

居住

拼写练习: _____

机经中搭配:

LIVE

account for

占... (比例)

拼写练习: _____

机经中搭配:

72%

OF REVENUE
COMES FROM APPS
FEATURING IN-APP
PURCHASES



Source: Distimo

spent on

在...方面花费

拼写练习: _____

机经中搭配:



populated countries

居住区

拼写练习: _____

机经中搭配:



sum up 总结

拼写练习: _____

机经中搭配:



major expenses 主要花费

拼写练习: _____

机经中搭配:



EX. V11104 Translate the following sentences

1. 运输及住房位居第二，分别占到收入的18%及12%。只有6%的收入花费在服装上。

.....

.....

.....

.....

2. 不难发现世界上57%的人分布在亚洲。事实上，中国和印度是世界上两大人口的居住区。

.....

.....

.....

.....

3. 圆形图给出了世界不同项目上的花费信息,人口及能源的消费。

.....

.....

.....

.....

4. 总的来说，主要的花费在食物上，而亚洲的人口总数是最高的。

.....

.....

.....

.....

Sample answer for

Version 11109

参考范文

The chart shows male and female fitness membership **over** a thirty-year period. The **vertical** axis represents the number of members. The **horizontal** axis represents the period from 1970 to 2000.

这张图表显示了过去30年间，男性和女性健身俱乐部会员的数量，纵坐标代表了人数。横坐标代表了从1970年到2000年这段时期。

我预测你高分
ipredicting

Overall, there were greater **fluctuations in** fitness membership among men than among women. **Marked differences were observed in** rates of male and female fitness memberships in the period **covered**.

总体来说，这张图表说明了在男性会员中出现了明显的波动。男性女性会员情况是有明显差异的。

The number of male members started the period at just over two thousand and reached four thousand in 1975 and five thousand around 1995. The lowest rates were in 1985 and more recently in 2000 when the rate **fell as low as** one thousand. (ipredicting©)

男性会员从最开始的2000人，在1975年增加到4000人，最后大约在1995年增加到了5000人。人数最低时期是在1985，并在2000年时，人数降至1000人。

Female fitness membership began lower at one thousand, **doubled** by 1975, and then fluctuated between two and three thousand during the **remainder of** the period. When male rates were at their lowest, female rates were higher. This was **particularly true** in 1985 when over three thousand women held fitness membership.

女性会员开始时只有1000人左右，到1975年增加了一倍，并在余下的时期里在2000~3000的范围里波动。但男性数量处在最低值时，女性人数会稍高一些。当1985年女性会员超过3000时更是如此。

我预测你高分
ipredicting

fitness (n.) 健康

拼写练习: _____

机经中搭配: *fitness membership*
健身俱乐部成员



fluctuation (n.) 波动

拼写练习: _____

机经中搭配: *greater fluctuations in*
在...有较大波动



membership (n.) 成员资格

拼写练习: _____

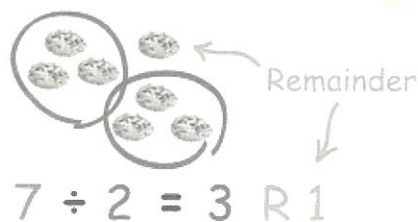
机经中搭配: *fitness membership*
健身俱乐部成员



remainder (adj.) 剩余的

拼写练习: _____


机经中搭配: *the remainder of*
剩余的...



Overall (adv.) 总体来说

拼写练习: _____

机经中搭配: *Overall*
总体来说



covered (adj.) 覆盖的

拼写练习: _____

机经中搭配: *in the period covered*
在...时间范围



vertical axis

纵坐标

拼写练习: _____

机经中搭配:




horizontal axis

横坐标

拼写练习: _____

机经中搭配:



lowest rates

最低数量

拼写练习: _____

机经中搭配:



as low as

如...这样低

拼写练习: _____

机经中搭配:




In brief

简而言之

拼写练习: _____

机经中搭配:

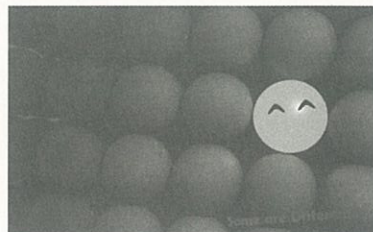


marked differences

显著差别

拼写练习: _____

机经中搭配:



EX. V11109 Translate the following sentences

1. 这张图表显示了30年间，男性和女性健身俱乐部会员的数量，纵坐标代表了人数。横坐标代表了从1970年到2000年这段时期。

.....

.....

.....

.....

2. 总体来说，这张图表说明了在男性会员中出现了明显的波动。

.....

.....

.....

.....

3. 女性会员开始时只有1000人左右，到1975年增加了一倍，并在余下的时期里在2000~3000的范围里波动。

.....

.....

.....

.....

4. 简而言之，在表中时间范围内，男性女性会员增长情况是有明显差异的。

.....

.....

.....

.....

Sample answer for

Version 11113

参考范文

The graph shows the changes in the sales of four different types of **publications** for a decade since 2002.

图表显示了自2002年起，四种不同出版物近十年的销量变化。

In general, all the given categories except hobbies book showed a rising trend in the sales **over the period**. The sales of history books were the highest while those of art books were the lowest. (ipredicting©)

一般来说，所给出的书籍分类显示了，除了兴趣爱好类的书籍外，其他类书目在过去的一段时间，销售量都呈增长趋势。历史类书籍销量最高，而艺术类书目销量最低。

In particular, the sales of the biggest sellers, history books, experienced an overall growth during the period. The sales were around 4500 copies in 2002, and then **reached a peak** of 10000 in 2008. Although the figure **dropped slightly** after then, history books remained the greatest sellers with around 9000 **copies** sold in 2012.

尤其是销量最大的历史类书籍，过去十年经历了全盛时期。2002年销量在大约4500册，2008年达到顶峰10000册。尽管在那之后销量微弱下降，历史书销量仍保持最高，2012年大约在9000册左右。

The sales of art books and entertainment books showed a **similar pattern** of a **steady growth**. The figure for art books increased slowly from around 1500 copies in 2002 to just under 4000 in 2012 while that for entertainment books went through a moderate rise from **approximately** 1300 copies in 2002 to 3000 in 2012.

艺术类书籍及娱乐书目都有相似的稳定增长模式。艺术类书籍由2002年1500册左右缓慢增长到2012年小于4000册的量，而娱乐类的书籍则经历了一个稳定的增长，从2002年近1300册增长到2012年3000册。


On the other hand, the last category, hobbies book, did not show an **upward trend**. The sales of hobbies book showed the lowest sales figures, and the figure generally **remained constant at** between 500 and 700 copies.

另一方面，最后的兴趣类书籍，并没有任何增长趋势。兴趣类书籍销售量最低，其销售量大概稳定在 500 到 700 册不变。

publications (n.) 出版物

拼写练习: _____


机经中搭配: *different publications*
不同出版物



categorise (vt.) 分类

拼写练习: _____

机经中搭配: *the given categorise*
所给的书目分类



overall (adj.) 全部的

拼写练习: _____


机经中搭配: *overall growth*
全盛时期



moderate (adj.) 稳定的

拼写练习: _____


机经中搭配: *moderate rise*
稳定增长



approximately (adv.) 大约

拼写练习: _____


机经中搭配: *approximately 1300 copies*
大约 1300 册



constant (adj.) 不变的

拼写练习: _____

机经中搭配: *remained constant at*
保持不变




In particular

特别的是

拼写练习: _____

机经中搭配: _____



reached a peak

达到顶峰

拼写练习: _____

机经中搭配: _____




dropped slightly

微弱下降

拼写练习: _____

机经中搭配: _____



steady growth

平稳增长

拼写练习: _____

机经中搭配: _____



similar pattern 相似模式

拼写练习: _____

机经中搭配: _____



upward trend 涨势

拼写练习: _____

机经中搭配: _____



EX. V11113 Translate the following sentences

1. 一般来说，所给出的书籍分类显示了，除了兴趣爱好类的书籍外，其他类书目在过去的一段时间，销售量都呈增长趋势。

.....

.....

.....

.....

2. 尤其是销量最大的历史类书籍，过去十年经历了全盛时期。2002年销量在大约4500册，2008年达到顶峰10000册。

.....

.....

.....

.....

3. 艺术类书籍由2002年1500册左右缓慢增长到2012年小于4000册的量，而娱乐类的书籍则经历了一个稳定的增长，从2002年近1300册增长到2012年3000册。

.....

.....

.....

.....

4. 另一方面，最后的兴趣类书籍，并没有任何增长趋势。兴趣类书籍销售量最低，其销售量大概稳定在500到700册不变。

.....

.....

.....

.....

Sample answer for

Version 13161

参考范文

The picture illustrates **the process of** coffee manufacture and preparation for sale on the market.

这幅图展示了市场上销售的咖啡的生产流程及制备工艺。

It is clear that **there are 11 stages** in the production of coffee. The process **begins with** the picking of coffee beans, and **ends at** the packing stage.(ipredicting©)

我预测你高分
ipredicting

很明显，生产咖啡需经历 11 个阶段。这段过程以咖啡豆采摘为起始，结束于包装。

Looking at the coffee production process **in detail**, coffee beans must first **be picked** in the fields. These beans are then **dried, roasted, and cooled** before being put in a grinding machine, which **turns the beans** into coffee granules. (ipredicting©)

看过咖啡豆的详细生产过程后得知，咖啡豆必须先从田里采摘。接着将这些咖啡豆晒干，焙烧，冷却之后再放入研磨机磨成咖啡颗粒。

At the sixth stage in the process, the ground coffee **is mixed with** hot water, and the **resulting mixture** is strained. Next, the mixture is frozen and then passed once again through the grinder. After that, the ground, frozen liquid is dried in a vacuum **so that** the water evaporates, leaving **the coffee granules**. Finally, these granules are packed into coffee jars for **delivery to shops**.

我预测你高分
ipredicting

在第六阶段中，咖啡用热水混合，滤去所得混合物。接下来，将混合物冷冻，并再次研磨。在此过程之后，地面的冷冻液在真空环境下蒸发掉咖啡颗粒中的水。最后，这些颗粒即可装入咖啡罐运送到商店。

Manufacture (n/v.) 制造

拼写练习: _____

机经中搭配: *coffee manufacture*
咖啡制造



Evaporate (v.) 蒸发

拼写练习: _____

机经中搭配: *the water evaporates*
水蒸发



Strain (v.) 滤去

拼写练习: _____

机经中搭配: *mixture is strained*
滤去混合物



Roast (v.) 烤

拼写练习: _____


机经中搭配: *beans are roasted*
豆子被烤熟



Mixture (n.) 混合物

拼写练习: _____


机经中搭配: *the mixture is frozen*
混合物被冷冻



Liquid (n.) 液体

拼写练习: _____

机经中搭配: *frozen liquid*
冷冻液体



End at 在...结束

拼写练习: _____.

_____.

机经中搭配:




In detail 详细地

拼写练习: _____.

_____.

机经中搭配:



Grinding machine 研磨机

拼写练习: _____.

_____.

机经中搭配:

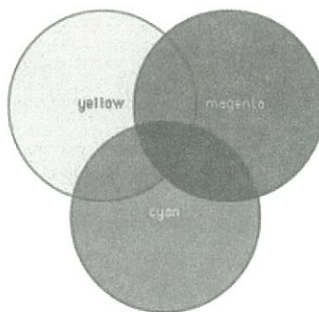


Mix with 与...混合

拼写练习: _____.

_____.

机经中搭配:



Once again 再一次

拼写练习: _____.

_____.

机经中搭配:



Coffee jar 咖啡罐

拼写练习: _____.

_____.

机经中搭配:



EX. V13161 Translate the following sentences

1. 生产咖啡需经历 11 个阶段。这段过程以咖啡豆采摘为起始，结束于包装。

.....

.....

.....

.....

.....

2. 咖啡豆必须先从田里采摘。接着将这些咖啡豆晒干，焙烧，冷却之后再放入研磨机磨成咖啡颗粒。

.....

.....

.....

.....

.....

3. 咖啡用热水混合，滤去所得混合物。接下来，将混合物冷冻，并再次研磨。

.....

.....

.....

4. 在此过程之后，地面的冷冻液在真空环境下蒸发干咖啡颗粒中的水。

.....

.....

.....

.....

Sample answer for

Version 11106

参考范文

The line chart gives information and **prediction** about the proportion of population in cities in four countries from 1970 to 2030.

这个线图给出了在四个被选择的国家中，1970 年到 2030 年城市人口比例的信息和预测。

As is shown in the graph, USA, Korea and China have a **substantial growth** in urban population during the whole period, while the increase in India is **less obvious**.

如图表展示的一样，美国，韩国和中国在城市人口中有显著增长，而印度的增长则不那么明显。

In 1970, the percentage in U.S.A **was the highest among the four countries(70%)**, while the figure in Korea was at 40%. In the following four decades, U.S.A saw **an upward trend** and it went up to 88% in 2010, **remaining the country with the largest figure**. However, a sharper increase to 85% took place in Korea, so **the gap between them became narrower**. The lowest percentage of city dwellers was in China and India, and it remained stable at 20% for the first twenty years. China **outnumbered** India in 1995, reaching 60% in 2010.



在 1970 年，美国的百分比是最大的(70%)，而韩国的比例在 40%。在接下来的四十年中，美国经历了一个上升的趋势，在 2010 年达到 88%，保持着有最大数字的国家。然而，一个到 85% 的更急剧的上升发生在韩国，所以他们之间差距变小了。相比之下，中国和印度的城市居民在前二十年里都是最小的数字，但是中国在 1995 年超过了印度，在 2010 年是 60%。

According to the forecast, **the existing trend** in U.S.A and Korea **is predicted to continue**, reaching the same figure at 90%. Likewise, in China, it is expected to grow up to 65% in 2030. Nevertheless, India is supposed to **remain the same figure at** 35% from 2012 onwards.

根据预测，美国和韩国的趋势将会继续，在 2030 年达到相同的 90%。相似地，中国将在 2030 年上升到 65%。然而，印度从 2012 年之后将几乎在 35% 保持不变。



Urban (adj.) 城市的

拼写练习: _____

机经中搭配: *urban area*
城市地区



Substantial (adj.) 大量的

拼写练习: _____


机经中搭配: *substantial growth*
大量的增长



Dweller (n.) 居民, 居住者

拼写练习: _____

机经中搭配: *city dweller*
城市居民



Expect (v.) 期望

拼写练习: _____

机经中搭配: *be expected to...*
被期望做某事



Witness (v.) 见证

拼写练习: _____


机经中搭配: *witness their equality*
见证他们的相等



Trend (n.) 趋势

拼写练习: _____

机经中搭配: *trend will continue*
趋势将继续



substantial growth

大幅增长

拼写练习: _____

机经中搭配: _____



an upward trend

一个向上的趋势

拼写练习: _____

机经中搭配: _____




existing trend

存在的趋势

拼写练习: _____

机经中搭配: _____



remain the same

保持不变

拼写练习: _____

机经中搭配: _____



city dweller

城市居住者

拼写练习: _____

机经中搭配: _____



be expected to

有望

拼写练习: _____

机经中搭配: _____



EX. V11106 Translate the following sentences

1. 在接下来的四十年中，美国经历了一个上升的趋势，在 2010 年达到 88%，保持着有最大数字的国家。

.....

.....

.....

.....

.....

2. 然而，一个到 85% 的更急剧的上升发生在韩国，所以他们之间差距变小了。

.....

.....

.....

.....

.....

3. 相比之下，中国和印度的城市居民在前二十年里都是最小的数字，但是中国在 1995 年超过了印度，在 2010 年是 60%。

.....

.....

.....

4. 然而，印度从 2012 年之后将几乎在 35% 保持不变。

.....

.....

.....

.....

Sample answer for

Version 11162

参考范文

The flow chart illustrates **the various stages** in recycling waste plastics.
这个流程图展示了回收废塑料的具体步骤。

According to the chart, it is clear that the whole process **can be divided into eight main stages**, beginning with the collection of plastics.

根据这个图，整个过程可以被分为八个主要的阶段，整个过程开始于塑料的回收。

First of all, used plastic bottles are **collected at a collection point** and are sent to a sorting house **where they are classified according to the specific type of plastic**. Then, the sorted bottles are transported to a processing factory to be reproduced. **This stage lasts until** the new plastic products are **reproduced** with the old and used plastic. The final products are then delivered to the shops ready to be picked and used again by people.

我预测你高分
i-predicting



<http://weibo.com/ielts9>

第一，使用过的塑料瓶子在收集点被回收然后被运送到分类厂根据特定的塑料种类分类。然后，被分类的瓶子被运送到一个处理厂再生产。这个阶段一直持续到新的塑料利用旧的和使用过的塑料被再生产出来。最终产品被运送到商店，等待公众又一次使用。

During the process of **sorting out** of used plastic goods, plastic bags and rubbish other than plastic bottles will be **ultimately ended up** in the landfill.

在清理使用过的塑料物品过程中，除袋子和垃圾外的塑料袋最终被填埋在垃圾堆里。

The diagram helps us to understand the **simple and easy recycle process**, which in turn help people to **save and reuse** the plastic for clean environment.

这个图表帮助我们理解简单的回收过程，帮助人们为了清洁的环境节省和再使用塑料。

我预测你高分
i-predicting

recycle (v.) 重新利用

拼写练习: _____

机经中搭配: *recycling process*
回收过程



process (n.) 过程/(v.) 处理

拼写练习: _____

机经中搭配: *whole process*
整个过程



Plastic (n.) 塑料

拼写练习: _____

机经中搭配: *plastic bags*
塑料袋



Sort (n.) 种类/(v.) 分类

拼写练习: _____

机经中搭配: *sorting house*
分类工厂



Landfill (n.) 垃圾填埋场

拼写练习: _____

机经中搭配: *landfill*
垃圾填埋场



Divide (v.) 划分, 分开

拼写练习: _____

机经中搭配: *be divided into..*
被分为...



various stage

不同阶段

拼写练习: _____

机经中搭配:



sort out

分类

拼写练习: _____

机经中搭配:



plastic bag

塑料袋

拼写练习: _____

机经中搭配:



other than

除了

拼写练习: _____

机经中搭配:



final product

最终产品

拼写练习: _____

机经中搭配:

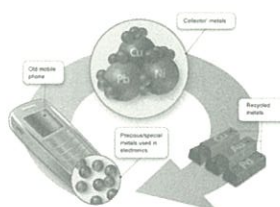


recycle process

回收过程

拼写练习: _____

机经中搭配:



EX. V11162 Translate the following sentences

1. 根据这个图，整个过程可以被分为八个主要的阶段。

.....

.....

.....

.....

.....

2. 第一，使用过的塑料瓶子在收集点被回收然后被运送到分类厂根据特定的塑料种类分类。

.....

.....

.....

.....

.....

3. 这个阶段一直持续到新的塑料利用旧的和使用过的塑料被再生产出来。

.....

.....

.....

4. 在清理使用过的塑料物品过程中，除袋子和垃圾外的塑料袋最终被填埋在垃圾堆里。

.....

.....

.....

.....

Sample answer for

Version 11152

参考范文

The two maps show **the changes in the campus layout** of Hogwards Grammar School from 2004 to 2010.

这两个地图展示了 Hogwards Grammar School 从 2004 到 2010 年校园布局的改变。

According to the first map of 2004, the school had 600 students and its only building **was located in the northwest corner**. To its east, **there was a large sport field**, which **was connected to** the school building **by a walking path**. Car entered the school area from its west side, and drove along a main road to the car park **situated in the northeast corner**. **The rest space** was **covered** by lawns and trees.

根据 2004 年的第一张地图，学校有 600 个学生，它唯一的教学楼坐落于西北角落。在它的东边有一个大操场，被一条小路连接到教学楼。汽车从西边进入学校区域，并且沿着主干道开到位于东北角落的停车场。剩下的空间被树和草坪所覆盖。

In 2010, as the number of students **increased to 1000**, two more school buildings **were added to east and south of the original one**, and the three were **linked to each other** by walking paths. In addition, the playground **shrank** and a new parking lot was **constructed** in northwest. Therefore, the main road **was altered to connect the two parking areas**.



在 2010 年，随着学生的数量扩张到 1000，两个新的教学楼被增加到以前的东边和南边，而且这三个教学楼通过小路互相连接。除此之外，操场的面积缩减了，而一个新的教学楼被建在西北方向。因此，主干道被改变以连接两个停车场。

To sum up, Hogwards Grammar School changed its internal layout to **better suit the need of growth in student number**.

总之，Hogwards Grammar School 改变了它的内部布局去更好得适应学生数量增长的需要。



Layout (n.) 布局; 设计

拼写练习: _____

机经中搭配: *a school site*
一所学校



Connect (v.) 连接

拼写练习: _____

机经中搭配: *was connected to ...*
被连接到...



Path (n.) 道路; 小路

拼写练习: _____

机经中搭配: *walking path*
人行道



Situate (v.) 位于, 处于

拼写练习: _____

机经中搭配: *situate in ...*
位于...



construct (v.) 建造

拼写练习: _____

机经中搭配: *was constructed in ...*
被建造于...



Shrink (v.) 使收缩, 使缩小

拼写练习: _____

机经中搭配: *the playground shrank*
操场的面积缩小了



campus layout

校园布局

拼写练习: _____

机经中搭配:



be located in

坐落于

拼写练习: _____

机经中搭配:



northwest corner

西北角落

拼写练习: _____

机经中搭配:



the rest space

剩余空间

拼写练习: _____

机经中搭配:



be linked to

被连接到...

拼写练习: _____

机经中搭配:



be altered to

被改变...

拼写练习: _____

机经中搭配:



EX. V11152 Translate the following sentences

1. 在它的东边有一个大操场，被一条小路连接到教学楼。

.....

.....

.....

.....

.....

2. 汽车从西边进入学校区域，并且沿着主干道开到位于东北角落的停车场。剩下的空间被树和草坪所覆盖。

.....

.....

.....

.....

.....

3. 随着学生的数量扩张到 1000，两个新的教学楼被增加到以前的东边和南边，而且这三个教学楼通过小路互相连接。

.....

.....

.....

4. 除此之外，操场的面积缩减了，而一个新的教学楼被建在西北方向。

.....

.....

.....

.....

Sample answer for

Version 11145

参考范文

The pie chart illustrates the results of a survey about a school library from undergraduate and postgraduate respondents.

这个饼图展示了一项本科生和研究生对于图书馆的调查结果。

According to the pie charts about the range of books, 50% of postgraduates feel that their school library does not have enough range of books. In contrast, only 28% of undergraduates feel likewise. 35% of undergraduates and 28% of postgraduates are satisfied with the range of books in the library.

根据关于书籍种类的饼图, 50%的研究生觉得他们的学校图书馆没有足够的书籍种类。相比之下, 只有 28%的本科生有这种感觉。35%的本科生和 28%的研究生对于学校的图书馆满意。

As for the non-print materials, postgraduates who are dissatisfied constituted the largest part(62%), and it clearly outnumbers the proportion of those who are pursuing a bachelor's degree. The choice of very good is in an opposite trend, with only 16% from the postgraduates but 68% from their undergraduate counterparts. Nearly equal percentages of postgraduates and undergraduates (22% and 20% respectively) express satisfaction with the non-print resources in school library.

我预测你高分
i-predicting

http://weibo.com/ielts9

关于非印刷材料, 对其不满意的研究生百分比组成了最大部分(62%),明显超过了那些本科生。感觉非常好的数量呈现一个相反的趋势, 只有 16%的研究生但是有 68%的本科生。几乎相同比例的研究生和本科生(分别是 20%和 22%)关于学校里的非印刷资源表达了满意。

To sum up, it can be seen from the survey that postgraduates are generally less satisfied with both the range of books and non-print materials than undergraduates.


总之, 从调查中可以看出的是研究生总体上对于书籍种类和非印刷材料比本科生更为不满意。

我预测你高分
i-predicting

Range (n.) 范围

拼写练习: _____

机经中搭配: *Range of books*
书籍范围



Non-printed (adj.) 非印刷的

拼写练习: _____

机经中搭配: *non-printed material*
非印刷材料



Evaluate (v.) 评价

拼写练习: _____

机经中搭配: *evaluate... as...*
评价为...



Satisfaction (n.) 满意

拼写练习: _____

机经中搭配: *express satisfaction*
表达满意



Pursue (v.) 追求

拼写练习: _____

机经中搭配: *pursue a bachelor's degree*
追求学士学位



Postgraduate (n.) 硕士生

拼写练习: _____

机经中搭配: *postgraduate and undergraduate*
硕士生和本科生



feel likewise

有类似想法

拼写练习: _____

机经中搭配:



be satisfied with

对...满意

拼写练习: _____

机经中搭配:



a bachelor's degree

学士学位

拼写练习: _____

机经中搭配:

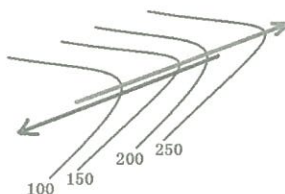


an opposite trend

相反的趋势

拼写练习: _____

机经中搭配:



range of books

书籍种类

拼写练习: _____

机经中搭配:



less satisfied with

对...不满意

拼写练习: _____

机经中搭配:



EX. V11145 Translate the following sentences

1. 50%的研究生觉得他们的学校图书馆没有足够的书籍种类。相比之下，只有28%的本科生有这种感觉。

.....

.....

.....

.....

.....

2. 关于非印刷材料，对其不满意的研究生百分比组成了最大部分(62%)，明显超过了那些本科生。

.....

.....

.....

.....

.....

3. 感觉非常好的数量呈现一个相反的趋势，只有 16%的研究生但是有 68%的本科生。

.....

.....

.....

4. 几乎相同比例的研究生和本科生(分别是 20%和 22%)关于学校里的非印刷资源表达了满意。

.....

.....

.....

.....

Sample answer for

Version 13142

The table shows changes in the **spending patterns** of an average Australian household between 1999 and 2001. In general, Australian household spending was higher in 2001 than in 1991 but **the difference was not significant** (AUD \$715 per month and AUD \$675 per month respectively).

我预测你高分
predicting 该表显示在 1999 年和 2001 年一个普通澳大利亚家庭消费模式的变化。一般来说，澳大利亚家庭在 2001 年的支出比 1991 年多，但差异并不显著（分别是每月 715 澳元和 675 澳元）。

The amount of monthly spending on electricity and water **saw a dramatic increase** over the 10-year period from \$75 to \$120. Yet **in terms of** the expenditure on non-essential goods and services, the rising trend was **less obvious** with **a minor increase** of \$20. At the same time, the amount of money spent on food and housing rose only slightly from \$155 to \$160 and \$95 to \$100 respectively.

我预测你高分
predicting 每月的水电支出急剧上升，十年内从 75 美元升至 120 美元。然而在非必要商品和服务的支出上只增加了 20 美元，上升趋势并不明显。同时，花在食物和住房上的金额略微上升，分别从 155 美元和 95 美元上升到 160 美元和 100 美元。

However, there was a decrease in expenditure on the other two items. Australians spent **one third less** on clothing, which fell from \$30 to \$20. Similarly, expenditure on transport dropped from \$70 in 1991 to \$45 in 2001.

我预测你高分
predicting 然而，有另外两项支出出现减少趋势。澳大利亚人花在衣服上的金额减少了三分之一，从 30 美元下降到 20 美元。同样，交通费用从 1991 年的 70 美元减少到 2001 年的 45 美元。

It seems that food and “other goods and services” were **the two biggest items of expenditure**. Altogether, they accounted for more than half of the total household spending. By comparison, Australians spent little on dressing up.

看来，食品和“其他商品服务”是两个最大支出项目。他们合起来占了家庭总支出的一半以上。相比之下，澳大利亚人很少花钱在打扮上。

Significant (adj.) 显著地

拼写练习: _____

机经中搭配: *difference was not significant*
差异并不显著



Electricity (n.) 电力

拼写练习: _____

机经中搭配: *spending on electricity*
在电力上的支出



Expenditure (n.) 支出, 花费

拼写练习: _____

机经中搭配: *the expenditure on services*
服务支出



Minor (adj.) 较小的

拼写练习: _____

机经中搭配: *a minor increase*
较小的增长



Item (n.) 项目

拼写练习: _____

机经中搭配: *the other two items*
另外两个项目



Transport (n.) 运输, 交通

拼写练习: _____

机经中搭配: *expenditure on transport*
交通费用



Spending patterns

消费模式

拼写练习: _____

机经中搭配:




The amount of

数量的（形容不可数名词）

拼写练习: _____

机经中搭配:

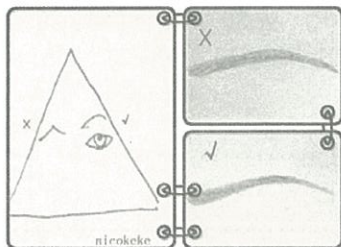


In terms of

根据，就...而言

拼写练习: _____

机经中搭配:



Less obvious

不太明显的

拼写练习: _____

机经中搭配:



By comparison 相比之下

拼写练习: _____

机经中搭配:



Dress up 打扮

拼写练习: _____

机经中搭配:



EX. V13142 Translate the following sentences

1. 每月的水电支出急剧上升, 十年内从 75 美元升至 120 美元。然而在非必要商品和服务的支出上只增加了 20 美元, 上升趋势并不明显。

.....

.....

.....

.....

2. 同时, 花在食物和住房上的金额略微上升, 分别从 155 美元和 95 美元上升到 160 美元和 100 美元。

.....

.....

.....

.....

3. 澳大利亚人花在衣服上的金额减少了三分之一, 从 30 美元下降到 20 美元。同样, 交通费用从 1991 年的 70 美元减少到 2001 年的 45 美元。

.....

.....

.....

4. 食品和“其他商品服务”是两个最大支出项目。他们合起来占了家庭总开支的一半以上。

.....

.....

.....

.....

Sample answer for

Version 13222

参考范文

The chart shows **the changes in** the sales of video material / DVDs, games software and CDs around the world in billions of dollars over a three-year period. It can be seen that the sales of videos / DVDs and games software **increased**, while the sales of CDs **declined slightly**.

我预测你高分
predicting 历时三年，录像带/ DVD、游戏软件和 CD 在世界范围内售出数十亿美元，该图表显示了这三类产品在这段时期的全球销售变化。可以看出，录像带/ DVD 和游戏软件的销售额有所增加，而 CD 的销售额稍有下滑。

Between 2000 and 2003, the sale of videos and DVDs **rose by** approximately 13 billion dollars. In 2000, just under 20 billion dollars **worth of these items** were sold, but in 2003, this figure **grew to** a little over 30 billion dollars.

在2000年至2003年间，录像带和 DVD 的销售额上升了约130亿美元。2000年，只售出了不到200亿美元的量，但到了2003年，这个数字已经上升到300多亿美元。

我预测你高分
predicting The sales of games software **also experienced a rising trend** during this period, but **less sharply**. Sales increased from about 13 billion dollars in 2000 to just under 20 billion dollars three years later. By contrast, during the same time period, the sale of CDs **fell** from 35 billion dollars in 2000 to about 32.5 billion dollars in 2003.

同样在这一时期，游戏软件的销售额也有所增长，但增长幅度较小。销售额从2000年的约130亿美元增长到三年后的不到200亿美元。相比之下，在同一时期 CD 的销售额从2000年的350亿美元跌至2003年的325亿美元。

billion (n.) 十亿

拼写练习: _____

机经中搭配: *under 20 billion dollars*
不到 200 亿美元



dollar (n.) 美元

拼写练习: _____

机经中搭配: *over 30 billion dollars*
超过 300 亿美元



item (n.) 项目

拼写练习: _____

机经中搭配: *these item*
这些项目



figure (n.) 数字

拼写练习: _____

机经中搭配: *this figure had risen*
这个数字已上升



fall (v.) 下跌

拼写练习: _____

机经中搭配: *fell from 35 billion dollars*
从 350 亿美元跌至



worth (n.) 价值

拼写练习: _____

机经中搭配: *worth of these items*
东西的价值



games software

游戏软件

拼写练习: _____

机经中搭配: _____



video material

录像材料

拼写练习: _____

机经中搭配: _____




same time

同时时间

拼写练习: _____

机经中搭配: _____




By contrast

相比之下

拼写练习: _____

机经中搭配: _____



the sale of

...的销量

拼写练习: _____

机经中搭配: _____

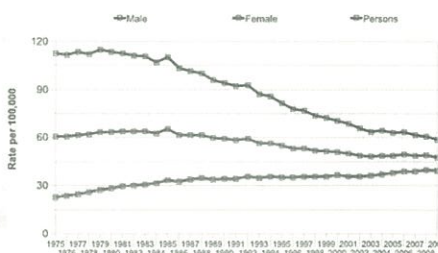


less sharply

幅度不大

拼写练习: _____

机经中搭配: _____



EX. V13222 Translate the following sentences

1. 历时三年，录像带/ DVD、游戏软件和 CD 在世界范围内售出数十亿美元，该图表显示了这三类产品在这段时期内的全球销售变化。

.....

.....

.....

.....

2. 可以看出，录像带/ DVD 和游戏软件的销售额有所增加，而 CD 的销售额稍有下滑。

.....

.....

.....

.....

3. 2000 年，只售出了不到 200 亿美元的量，但到了 2003 年，这个数字已经上升到 300 多亿美元。

.....

.....

.....

.....

4. 同样在这一时期，游戏软件的销售额也有所增长，但增长幅度较小。

.....

.....

.....

.....

Sample answer for

Version 13103

参考范文

The chart illustrates **housing preferences** among people who lived in the British cities of London, Oxford and Cambridge in the year 2005.

此图表体现了2005年英国伦敦,牛津和剑桥三地居民的住房偏好。

It appears partiality towards certain housing types **is inverted** between larger and smaller English cities.(Ipredicting©)

图表体现出英国较大和较小城市之间对一些类型的住房偏好是相反的。

58% of Londoners **list flats as** their preferred living arrangement, a number **much higher** than its Oxford and Cambridge counterparts, at 29% and 20% respectively. **Fondness of** terraced housing **is roughly equal** between the three cities, all of which show figures within the 16% to 19% range. However, **a stark difference is seen** among the figures **representing** people who prefer detached houses, with London clocking in at 9%, Oxford at 25% and Cambridge at 36%. Semi-detached housing also shows a pattern of variation that appears to be sensitive to city size. 17% of people living in London in 2005 preferred this style of housing. Oxford and Cambridge, however, **both have figures of 27%**. (Ipredicting©)

我预测你高分
Ipredicting
http://weibo.com/ipredicting1

三个城市对连栋房屋的偏好程度大致是相等的,比例都显示为16%至19%之间。然而,有25%和36%的牛津和剑桥人似乎更喜欢独立式住宅,这一比例在伦敦只有9%。城市规模大小的不同也在一定程度上影响了房屋建造的模样。2005年在伦敦,有17%的人喜欢半独立式的住宅,而在牛津和剑桥这一数字高达27%。

Flat (n.) 公寓

拼写练习: _____

机经中搭配: *flats as their preferred...*
公寓是他们喜欢的...



counterpart (n.) 相对物

拼写练习: _____

机经中搭配: *Its Cambridge counterparts*
其剑桥同行



Fondness (n.) 钟爱, 爱好

拼写练习: _____

机经中搭配: *Fondness of terraced housing*
对连栋房屋的喜爱



Stark (adj.) 完全的, 明显的

拼写练习: _____

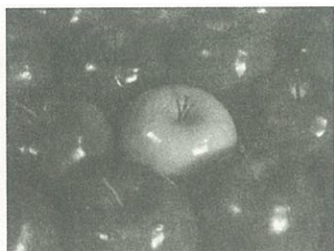
机经中搭配: *a stark difference*
一个明显的区别



Among (prop.) 在...之中

拼写练习: _____

机经中搭配: *among the figures*
在这些数字之中



Roughly (adv.) 粗略地, 大致

拼写练习: _____

机经中搭配: *roughly equal*
大致相等



Housing preference

住房偏好

拼写练习: _____

机经中搭配: _____



Detached houses

独立式住房

拼写练习: _____

机经中搭配: _____




Be sensitive to

对...感到敏感

拼写练习: _____

机经中搭配: _____



A pattern of

一贯的, 一个模式的

拼写练习: _____

机经中搭配: _____



Semi-detached housing

半独立式住房

拼写练习: _____

机经中搭配: _____



City size

城市规模

拼写练习: _____

机经中搭配: _____



EX V13103 Translate the following sentences

1. 英国较大和较小城市之间对一些类型的住房偏好是相反的

.....

.....

.....

2. 三个城市对连栋房屋的偏好程度大致是相等的, 比例都显示为 16%至 19%之间。

.....

.....

.....

.....

3. 然而, 有 25%和 36%的牛津和剑桥人似乎更喜欢独立式住宅, 这一比例在伦敦只有 9%。

.....

.....

.....

4. 城市规模大小的不同也在一定程度上影响了房屋建造的模样。2005 年在伦敦, 有 17%的人喜欢半独立式的住宅, 而在牛津和剑桥这一数字高达 27%。

.....

.....

.....

.....

Sample answer for

Version 13112

The graph shows changes in the **age profile** of Internet users in Taiwan between 1998 and 2000.

此图表显示的是1998年至2000年台湾互联网用户年龄分布的变化。

The **main users** of the Internet in Taiwan are young adults between 16 and 30 years old. In 1998, they **accounted for** more than half of all users. In 1999, the number fell slightly to 45%, but even in 2000 they were **the biggest group**.

我预测你高分
i-predicting

台湾互联网的主要用户是介于16至30岁之间的年轻人。1998年，他们人数已超过所有用户的一半。1999年，这个比例稍微下跌至45%，但即使是到了2000年，他们仍是最大的使用群体。

The **second biggest group** of users is aged between 31 and 50. They **made up** 41% in 1998, **falling slightly** to 37% in 2000. When **combined with** the 16-30 age group, over 94% of users in 1998 were between 16 and 50.

第二大的用户群体的年龄是介于31岁至50岁。从1998年到2000年他们所占的比例由41%略微下降至37%。加上16-30年龄组，1998年超过94%的用户年龄在16岁至50岁之间。

However, this number is dropping steadily as more children and older users log on. In 1999, the number of children online **quadrupled** from 2% to 8%, and it **continued to increase** in 2000. There were **similar increases** for older users, rising from 4% in 1998 to 10% in 2000.

我预测你高分
i-predicting

然而因为越来越多的小孩和老年用户登录互联网，这个比例就持续下降了。1999年，儿童上网人数所占比例翻了两番，从2%增加到8%，并在2000年持续增长。同时有类似增长的是老年用户使用人数的比例，从1998年的4%上升到2000年的10%。


In summary, while adults between 16 and 50 still **represent the great majority** of Internet users in Taiwan, their share is declining as more children and older users join the web.

总的来说，介于16至50岁之间的成年人仍然代表着台湾互联网用户的绝大多数，而随着更多的孩子和老年人的加入，他们所占的比例正在逐渐地减少。

Main (adj.) 主要的

拼写练习: _____

机经中搭配: *The main users*
主要的用户



Logon (v.) 登录, 注册

拼写练习: _____

机经中搭配: *older users logon*
老年用户登录



Represent (v.) 代表

拼写练习: _____

机经中搭配: *represent the Internet users*
代表了网络用户



Continue (v.) 继续, 连续

拼写练习: _____

机经中搭配: *it continued to increase*
它继续上升



Quadruple (adj.) 四倍的

拼写练习: _____

机经中搭配: *quadrupled from 2% to 8%*
从 2% 翻了两翻至 8%



Join (v.) 加入

拼写练习: _____

机经中搭配: *join the web.*
加入网络



Age profile 年龄分布

拼写练习: _____


机经中搭配:



Young adults 青壮年

拼写练习: _____


机经中搭配:



Combine with 结合, 连同

拼写练习: _____

机经中搭配:



In summary 总之

拼写练习: _____


机经中搭配:



The great majority of 绝大多数的

拼写练习: _____

机经中搭配:



The number of 数目

拼写练习: _____

机经中搭配:



EX. V13112 Translate the following sentences

1. 台湾互联网的主要用户是介于 16 至 30 岁之间的年轻人。1998 年，他们人数已超过所有用户的一半。

.....

.....

.....

.....

2. 1999 年，这个比例稍微下跌至 45%，但即使是到了 2000 年，他们仍是最大的使用群体。

.....

.....

.....

.....

3. 1999 年，儿童上网人数所占比例翻了两番，从 2% 增加到 8%，并在 2000 年持续增长。

.....

.....

.....

.....

4. 介于 16 至 50 岁之间的成年人仍然代表着台湾互联网用户的绝大多数，而随着更多的孩子和老年人的加入，他们所占的比例正在逐渐地减少。

.....

.....

.....

.....

Sample answer for

Version 13151

参考范文

The maps illustrate the changes in **the layout** of a community center from past to present.

该地图展示了一个社区中心从过去到现在的布局改变。

As can be seen from the map, every part of the center had **a regular form** in the past. To be specific, entering the entrance from the north, cars directly **went to the car park** which **covered** the east part of the whole site. At the south-west corner, there lay a garden, **occupying** one third of the west area. The rest consisted of a café and two meeting rooms at the west, a gym, an IT room and an art room at the east.

我预测你高分
ipredicting
http://weibo.com/ipredicting1

从地图上可以看到，最初，该中心的每一部分都有正规的形式。具体说来，从北门进入，汽车可以直接开到占据了整片东区的停车场。在它的西部，西南角落里，有一个花园，占了余下区域的三分之一。剩下场地的西面建有一家咖啡馆和两个会议室，一个健身房，东面是一间机房和艺术教室。

In stark contrast, at present, the community center has been **changed substantially**. The parking lot is **extended westward**, **replacing** the garden and part of the gym. The new one now occupies almost 75% of the whole site. Moreover, the café and part of the gym **is altered into a reception**. The IT room is expanded slightly, whereas the size of the art room is shrunk. Only the meeting rooms **remain unchanged**. (Ipredicting©)

我预测你高分
ipredicting
http://weibo.com/ipredicting1

形成鲜明对比的是，现在，社区中心已基本改造完成。停车场向西延伸，取代了之前的花园和健身房的一部分，几乎占据了整个场地的 75%。咖啡馆和健身房剩下的部分被改建成一个接待处。机房虽被占据了一部分，但面积扩大了些，艺术教室则变小了。只有会议室保持不变。

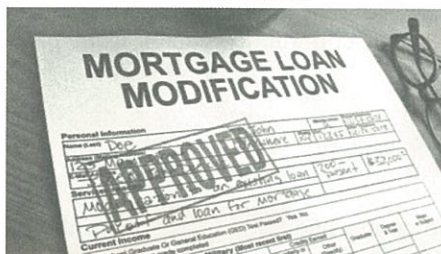
In conclusion, the function of the community center **is simplified** with the change of the layout.

总之，由于社区中心格局的改变，其功能被简化了。

Modification (n.) 修正, 修改

拼写练习: _____

机经中搭配: *the modifications*
这些整改



Community (n.) 社区

拼写练习: _____

机经中搭配: *a community center*
一个社区中心



Initially (adv.) 最初, 开始

拼写练习: _____


机经中搭配: *initially*,
起初,



Occupy (v.) 占据

拼写练习: _____


机经中搭配: *occupying the rest area*
占据了剩下的区域



Extend (v.) 延伸, 扩大

拼写练习: _____

机经中搭配: *extended westward*
向西面延伸



Simplify (v.) 简化

拼写练习: _____

机经中搭配: *the function simplified*
功能简化



EX. V13151 Translate the following sentences

1. 从地图上可以看到，最初，该中心的每一部分都有正规的形式。具体说来，从北门进入，汽车可以直接开到占据了整片东区的停车场。

.....

.....

.....

.....

2. 在它的西部，西南角落里，有一个花园，占了余下区域的三分之一。

.....

.....

.....

.....

3. 现在，社区中心已基本改造完成。停车场向西延伸，取代了之前的花园和健身房的一部分，几乎占据了整个场地的 75%。

.....

.....

.....

4. 咖啡馆和健身房剩下的部分被改建成一个接待处。机房虽被占据了一部分，但面积扩大了些，艺术教室则变小了。

.....

.....

.....

.....

.....

Sample answer for

Version 13302

参考范文

The chart shows the number of hours of leisure enjoyed by men and women in a typical week in 1998-1999, according to **gender and employment status**.

图表显示了1998年至1999年期间的一周，据性别和就业状况来体现男性和女性所享受的休闲时光时长的差别。

Among those employed full-time, men **on average had fifty hours** of leisure, whereas women had approximately thirty seven hours. There were **no figures** given for male part-time workers, but female part-timers had forty hours of leisure time, only **slightly more than** women in full-time employment.

我预测你高分
i-predicting

那些全职工作的男性，平均每周有五十小时的休闲时光，而女性却只有约三十七小时。其中，无男性兼职工的数据显示，但女性兼职工有四十小时的休闲时间，只稍稍比全职女性长几小时。

In the unemployed and retired **categories**, leisure time showed an increase **for both sexes**. Men enjoyed more leisure time of 82 hours and 85 hours respectively, **compared with** 76 hours and 72 hours for women.

不出所料地，在失业和退休类别中，两性的休闲时间均有增加。男性享有超过八十小时的闲暇时间，比女性所享的七十小时多得多。

Lastly, housewives enjoyed approximately fifty four hours of leisure, on average. There were **no figures** given for househusbands. Overall, the chart demonstrates that in the categories for which statistics on male leisure time were available, men enjoyed at least ten hours of **extra leisure time**.

我预测你高分
i-predicting

最后，家庭主妇们平均一周享有大约五十四个小时的闲暇时光。无家庭主夫的数据显示！总体而言，该图表显示了只要有对男性休闲时长进行统计的类别，均体现出男子额外享有至少十小时的闲暇时间。

leisure (n.) 空闲

拼写练习: _____

机经中搭配: *fifty hours of leisure*
五十小时的休闲时光



gender (n.) 性别

拼写练习: _____

机经中搭配: *according to gender*
根据性别



housewife (n.) 家庭主妇

拼写练习: _____

机经中搭配: *housewives enjoyed...*
家庭主妇享有...



extra (adj.) 额外的

拼写练习: _____


机经中搭配: *extra leisure time*
额外的闲暇时间



category (n.) 种类

拼写练习: _____

机经中搭配: *in the categories*
在这些种类中...



reflect (v.) 反映

拼写练习: _____

机经中搭配: *reflecting the fact that...*
反映出一个事实..




Reflect

typical week

典型的一周

拼写练习: _____

机经中搭配:




employment status

工作状态

拼写练习: _____

机经中搭配:



full-time

全职

拼写练习: _____

机经中搭配:



part-time

兼职

拼写练习: _____

机经中搭配:



once again

再一次

拼写练习: _____

机经中搭配:

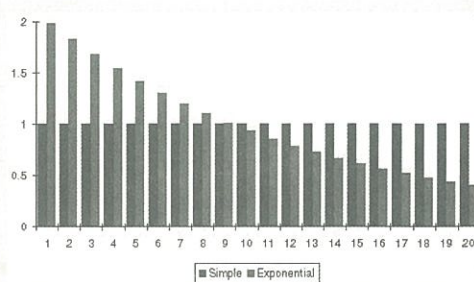


on average

平均

拼写练习: _____

机经中搭配:



EX. V13302 Translate the following sentences

1. 那些全职工作的男性，平均每周有五十小时的休闲时光，而女性却只有约三十七小时。

.....

.....

.....

.....

2. 不出所料地，在失业和退休类别中，两性的休闲时间均有增加。男性享有超过八十小时的闲暇时间，比女性所享的七十小时多得多。

.....

.....

.....

.....

3. 最后，家庭主妇们平均一周享有大约五十四个小时的闲暇时光。无家庭主夫的数据显示。

.....

.....

.....

.....

4. 总体而言，该图表显示了只要有对男性休闲时长进行统计的类别，均体现出男子额外享有至少十小时的闲暇时间。

.....

.....

.....

.....